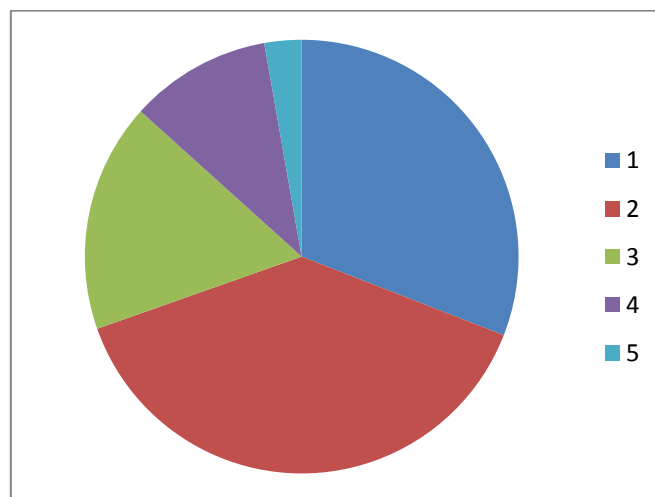
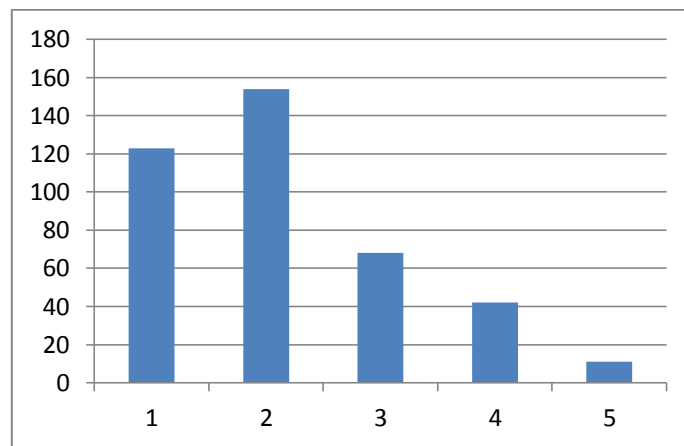


Estadística: Representar gráficamente SOLUCIONES

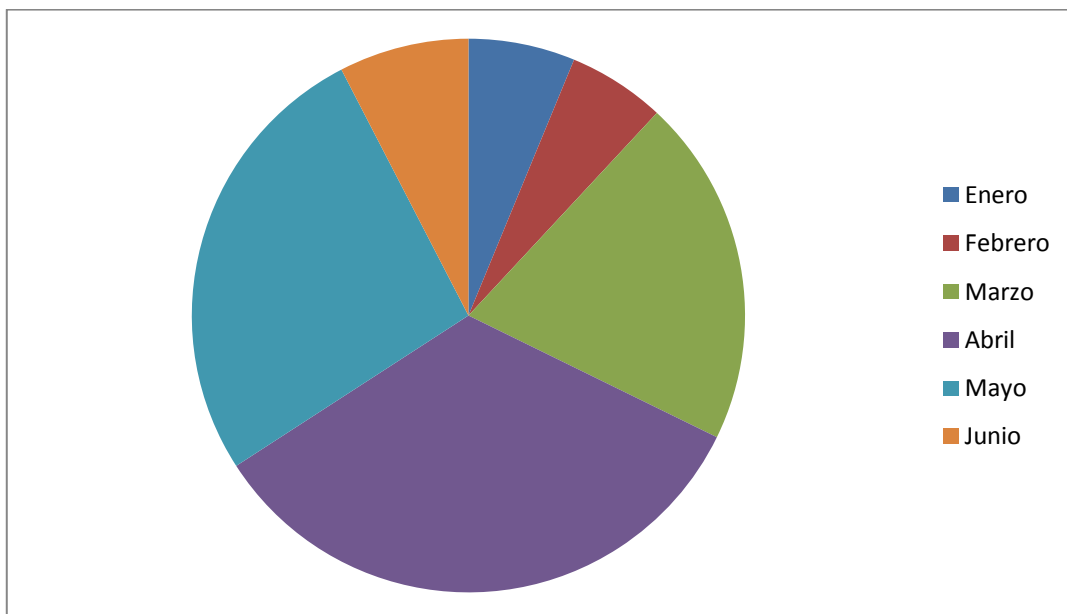
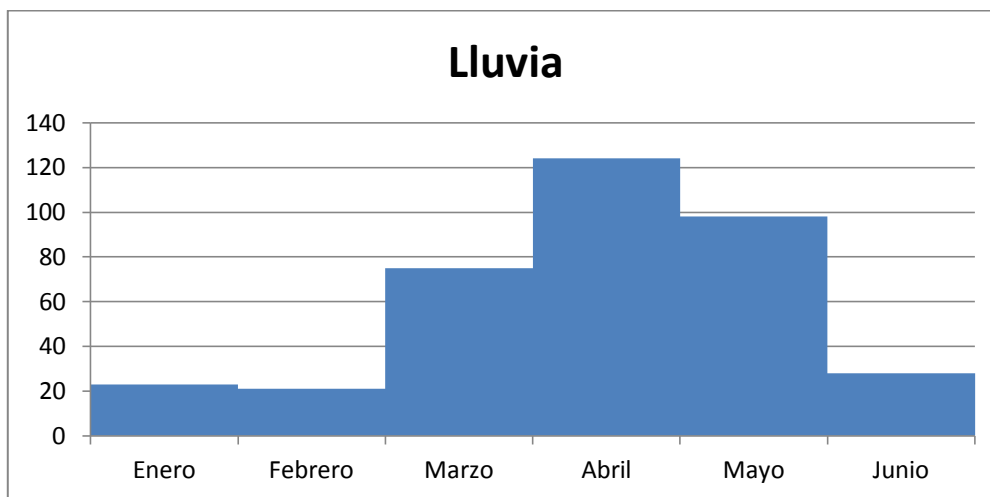
1. Representa en un diagrama de barras y en un diagrama de sectores el siguiente estudio estadístico que muestra el número de ocupantes de los vehículos que van por una autopista.

	f_i
1	123
2	154
3	68
4	42
5	11



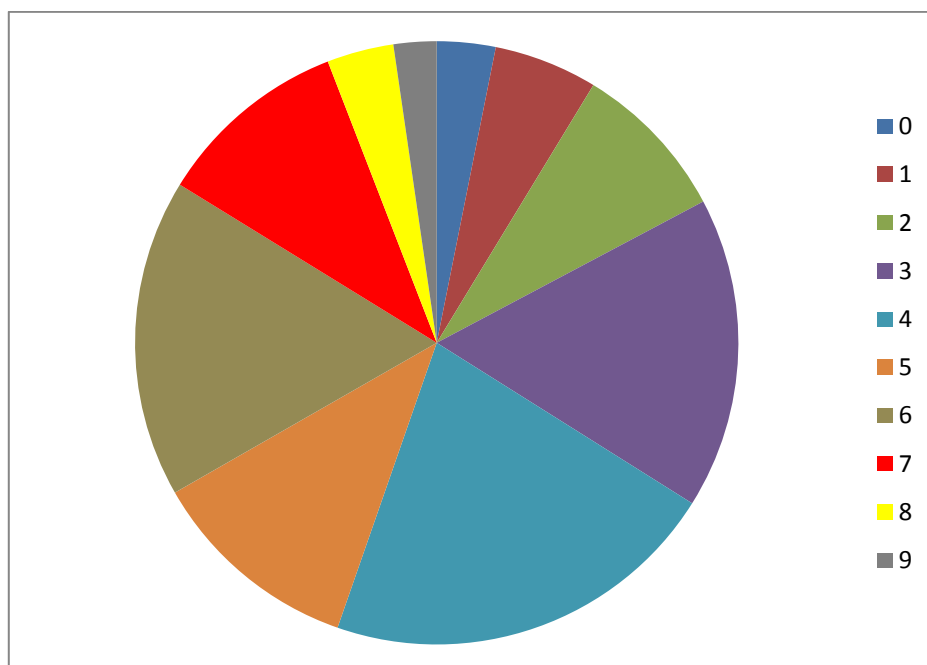
2. Representa en un histograma y en un diagrama de sectores la cantidad de lluvia recogida los primeros seis meses en una ciudad:

	f_i
Enero	23
Febrero	21
Marzo	75
Abril	124
Mayo	98
Junio	28



3. Representa en un diagrama de barras y en un diagrama de sectores el número de veces que ha ido la gente al cine en el último año.

	f_i
0	86
1	152
2	234
3	457
4	586
5	312
6	467
7	283
8	98
9	63



4. Representa en un histograma y en un diagrama de sectores lo que han pagado los clientes de un hotel por una habitación doble:

	f_i
[60 , 70)	291
[70 , 80)	275
[80 , 90)	198
[90 , 100)	102
[100 , 110)	45

Nota: 291 clientes han pagado entre 60 y 70 euros.

